




COUPE DU MONDE DE LA FIFA 2026™ À TORONTO

LIVRET D'ACTIVITÉS SUR LE SOCCER

Avril 2026



Remarque à l'intention des éducateurs et des parents/tuteurs :

Le « beau sport » arrive à Toronto.

La Coupe du monde de la FIFA 2026™ sera le plus grand événement sportif jamais organisé, avec trois pays hôtes, 16 villes hôtes, 48 équipes et 104 matchs réunissant tout un continent pour présenter un nouveau format de tournoi mémorable. Avec plus de pays, de villes, d'équipes et de matchs, la Coupe du monde de la FIFA 2026™ sera le tournoi le plus inclusif de tous les temps, faisant converger des millions de partisans dans 16 stades uniques et des milliards de spectateurs dans le monde entier, y compris vous.

Toronto se veut « Le monde dans une ville », avec de nombreux quartiers et des cultures diverses tous unis par leur amour pour le soccer.

Toronto et l'Ontario ont hâte d'accueillir les partisans du monde entier pour six matchs en 2026, y compris le premier match de la Coupe du monde masculine de la FIFA™ au Canada, qui mettra en vedette l'équipe nationale masculine du Canada le 12 juin 2026.

À quoi s'attendre :

- Ce livret propose une gamme d'activités conçues pour soutenir un programme multidisciplinaire, intégrant la santé et l'éducation physique aux compétences de base en mathématiques, en arts du langage, en arts visuels et en planification personnelle.
- De la maternelle à la 2e année du primaire : Une introduction ludique au soccer avec des pages à colorier et des activités faciles à suivre.
- De la 3e à la 5e année du primaire : Des jeux interactifs pour stimuler la créativité, de la rédaction de mots d'encouragement pour votre équipe préférée au développement des compétences en mathématiques et à l'apprentissage de bonnes habitudes.
- De la 6e année du primaire à la 1re année du secondaire : Plongez plus profondément dans le monde du soccer avec des défis avancés, des activités de définition d'objectifs et des tactiques de résolution de problèmes.



HORAIRE DE LA PHASE DE GROUPES

CANADA  **C.**  BOSNIE-HERZÉGOVINE

12 JUIN - 15 h HE

GHANA  **C.**  PANAMA

17 JUIN - 19 h HE

ALLEMAGNE  **C.**  CÔTE D'IVOIRE

20 JUIN - 16 h HE

PANAMA  **C.**  GROATIE

23 JUIN - 19 h HE

SÉNÉGAL  **C.**  IRAQ

26 JUIN - 15 h HE

SEIZIÈMES DE FINALE

GROUPE K  **C.**  GROUPE L

2 JUILLET - 19 h HE




Liste des pays qui participent et leurs drapeaux

Afrique du Sud	Mexique (hôte)
Algérie	Norvège
Allemagne	Nouvelle-Zélande
Angleterre	Ouzbékistan
Arabie saoudite	Panama
Argentine	Paraguay
Australie	Pays-Bas
Autriche	Portugal
Belgique	Qatar
Bosnie-Herzégovine	R. D. du Congo
Brésil	République tchèque
Canada (hôte)	Sénégal
Cap-Vert	Suède
Colombie	Suisse
Corée du Sud	Tunisie
Croatie	Turquie (Türkiye)
Curaçao	Uruguay
Côte d'Ivoire	
Égypte	
Écosse	
Équateur	
Espagne	
États-Unis (hôte)	
France	
Ghana	
Haïti	
Iran	
Iraq	
Japon	
Jordanie	
Maroc	

Instructions :

Combien de drapeaux reconnais-tu? Associe chaque drapeau ci-dessous au bon pays dans la liste partagée à la page 4 pour tester tes connaissances.



SECTION 1

De la maternelle à la 2e année du primaire :
Alphabet du soccer

Instructions :

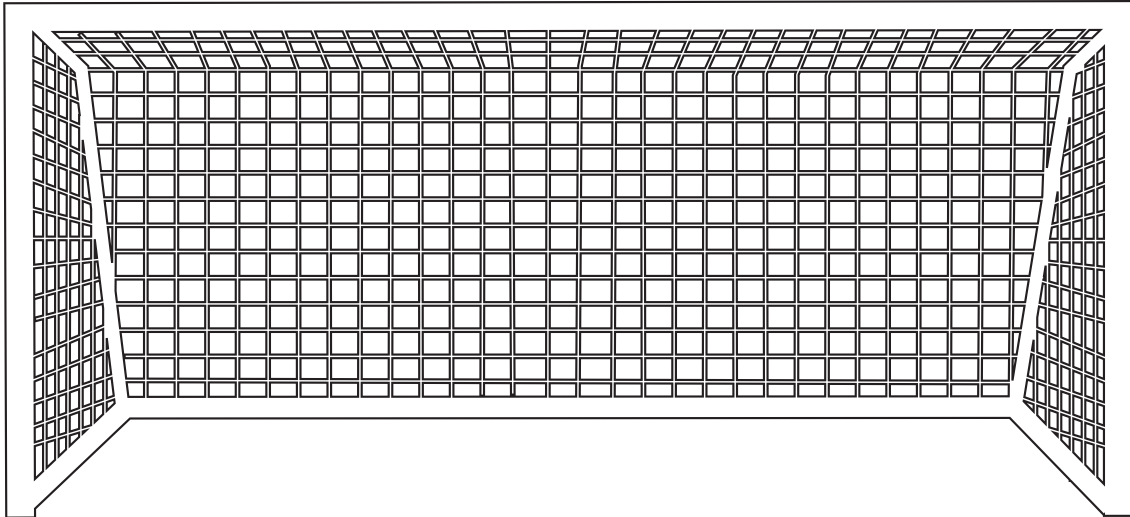
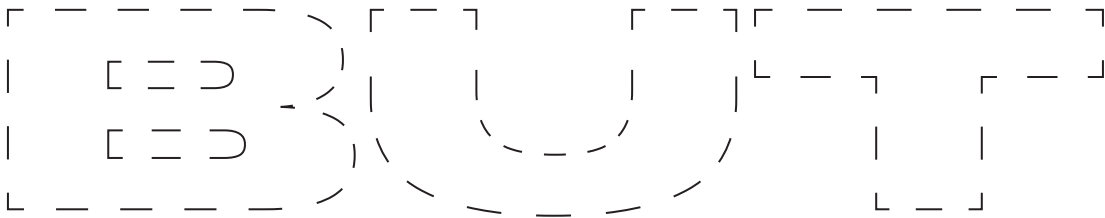
Entoure toutes les lettres qui épellent le mot « SOCCER »

A	B	C	D	E
S	H	I	J	K
N	O	Q	R	M
U	V	W	X	Z
G	S	A	C	C
U	V	X	Y	C
U	W	X	C	H

De la maternelle à la 2e année du primaire : Trace et colorie le BUT

Instructions :

Trace le contour du mot « BUT » et colorie les poteaux du but sur le filet de soccer. Enfin, dessine ton propre ballon de soccer à l'intérieur du filet pour marquer un but!

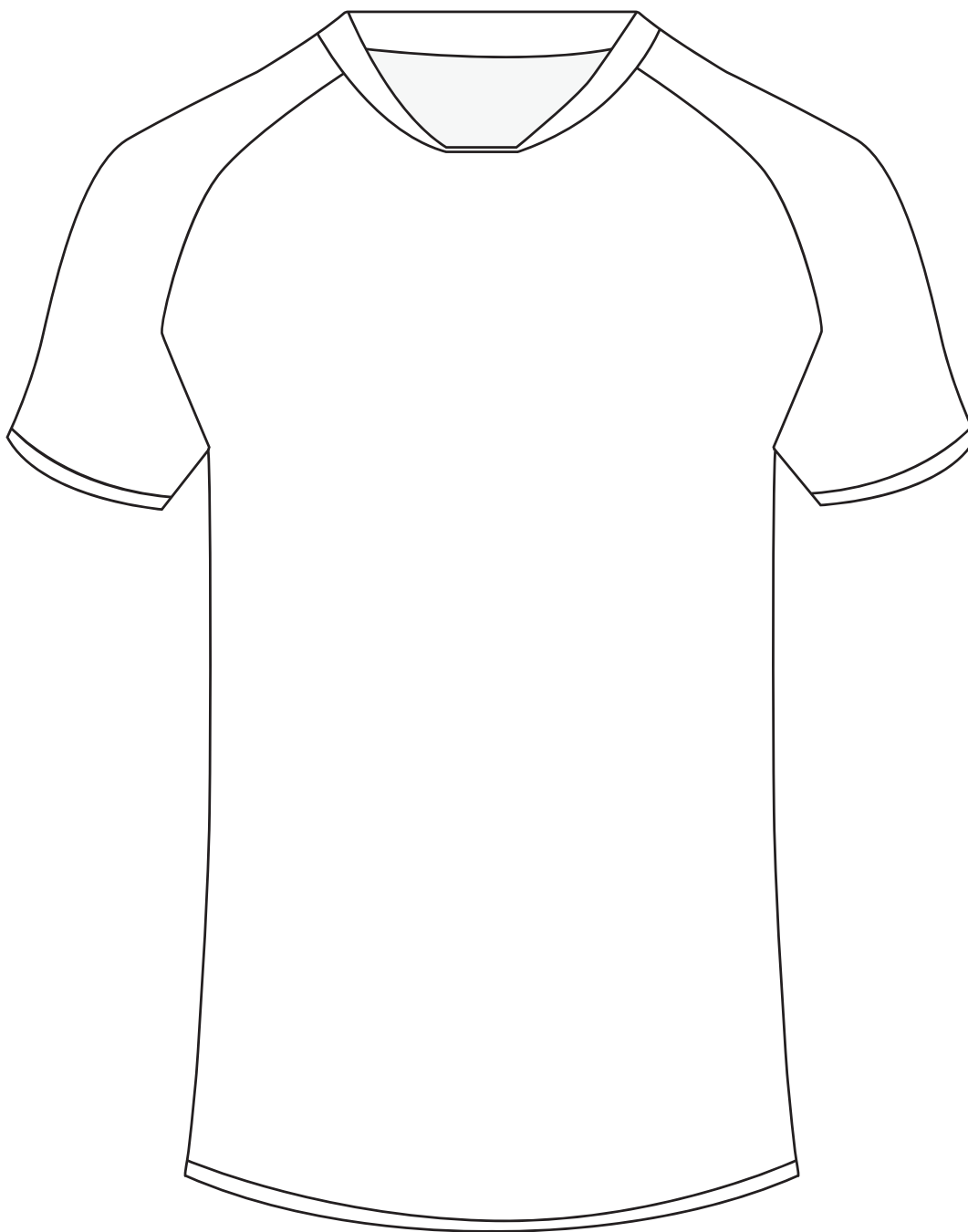


SECTION 1

De la maternelle à la 2e année du primaire :
Dessine ton maillot d'équipe

Instructions :


Dessine et colorie ton propre maillot de soccer.



De la maternelle à la 2e année du primaire : Compte les ballons de soccer

Instructions :

Crée un graphique indiquant le nombre de couleurs différentes de ballons de soccer sur cette page.



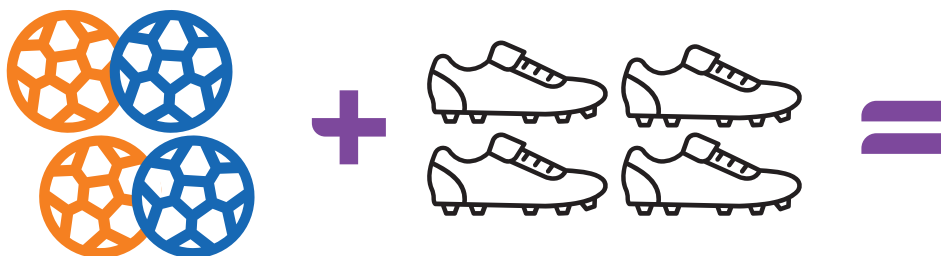

SECTION 1

De la maternelle à la 2e année du primaire : Activité de mathématiques sur le thème du soccer

Instructions :

Compte le nombre d'articles de soccer et trouve la somme.

p. ex. :  +  = **3**



De la maternelle à la 2e année du primaire : Colorie les mascottes

Instructions :

1. Regarde les mascottes de la Coupe du monde de la FIFA 2026™ sur cette page.
2. Utilise tes couleurs préférées pour faire ressortir leurs tenues!
3. N'oublie pas de colorier leurs bras, leurs jambes et leur tête aussi.
4. Ajoute des détails amusants à leurs maillots comme des numéros de jersey ou de supers motifs sur leur jersey!



SECTION 2

De la 3e à la 5e année du primaire : Activité de mathématiques

Instructions :

Réponds aux questions de mathématiques en utilisant la légende au bas. Chaque image représente un nombre différent!

$$\text{stopwatch} + \text{goal} - 2 =$$

$$\text{goal} + 4 + \text{stadium} =$$

$$4 - \text{soccer ball} + \text{goal} =$$

$$\text{skateboard} - \text{glove} - 1 =$$

LÉGENDE



1



2



3



4



5



6



7

De la 3e à la 5e année du primaire : Défi de magasinage pour le soccer

Instructions :

Tu es l'entraîneur d'une équipe participant à la Coupe du monde de la FIFA 2026™ à Toronto et tu as 2 500 \$ pour habiller les 18 joueurs de ton équipe en utilisant les articles et la liste de prix au bas de la page. En utilisant l'espace ci-dessous pour montrer ton travail, calcule combien il en coûterait d'habiller les 18 joueurs avec des maillots, des culottes courtes, des chaussettes, des protège-tibias, des crampons, et des bouteilles d'eau.

LISTE DE PRIX DU MAGASIN DE VÊTEMENTS

Maillot : 30 \$

Culotte courte : 20 \$

Chaussettes : 10 \$

Crampons : 30 \$

Bouteille d'eau : 5 \$

Protège-tibias : 25 \$

SECTION 2

De la 3^e à la 5^e année du primaire :
Recherche de mots sur le thème du soccer

Instructions :

Trouve les mots cachés dans le tableau ci-dessous.

B	A	L	L	O	N	X	F	I	L
U	T	E	Q	U	I	P	E	O	L
T	R	A	I	N	E	U	R	C	T
P	A	S	S	E	R	O	C	C	E
D	E	I	P	E	D	P	U	O	C
V	I	C	T	O	I	R	E	R	S
F	A	U	T	E	X	N	M	Q	O
S	O	C	C	E	R	L	K	J	C
H	G	F	E	D	X	B	A	Z	W
Y	X	W	V	U	T	S	R	Q	P

LISTE DE MOTS

1. Ballon
2. But
3. Coup de pied
4. Passe
5. Équipe
6. Entraîneur
7. Filet
8. Victoire
9. Faute
10. Soccer

En prime : Peux-tu écrire une phrase en utilisant trois mots parmi ceux-ci?

De la 3e à la 5e année du primaire : Crée tes propres mots d'encouragement

Instructions :

Choisis un pays et écris tes propres mots d'encouragement pour cette équipe en trois lignes que toi et ton ami pouvez chanter lors des matchs dans ton pays.

Exemple :

Donne un coup de pied vers le haut, donne un coup de pied vers le bas!

Allez, allez, montrez votre esprit d'esprit!

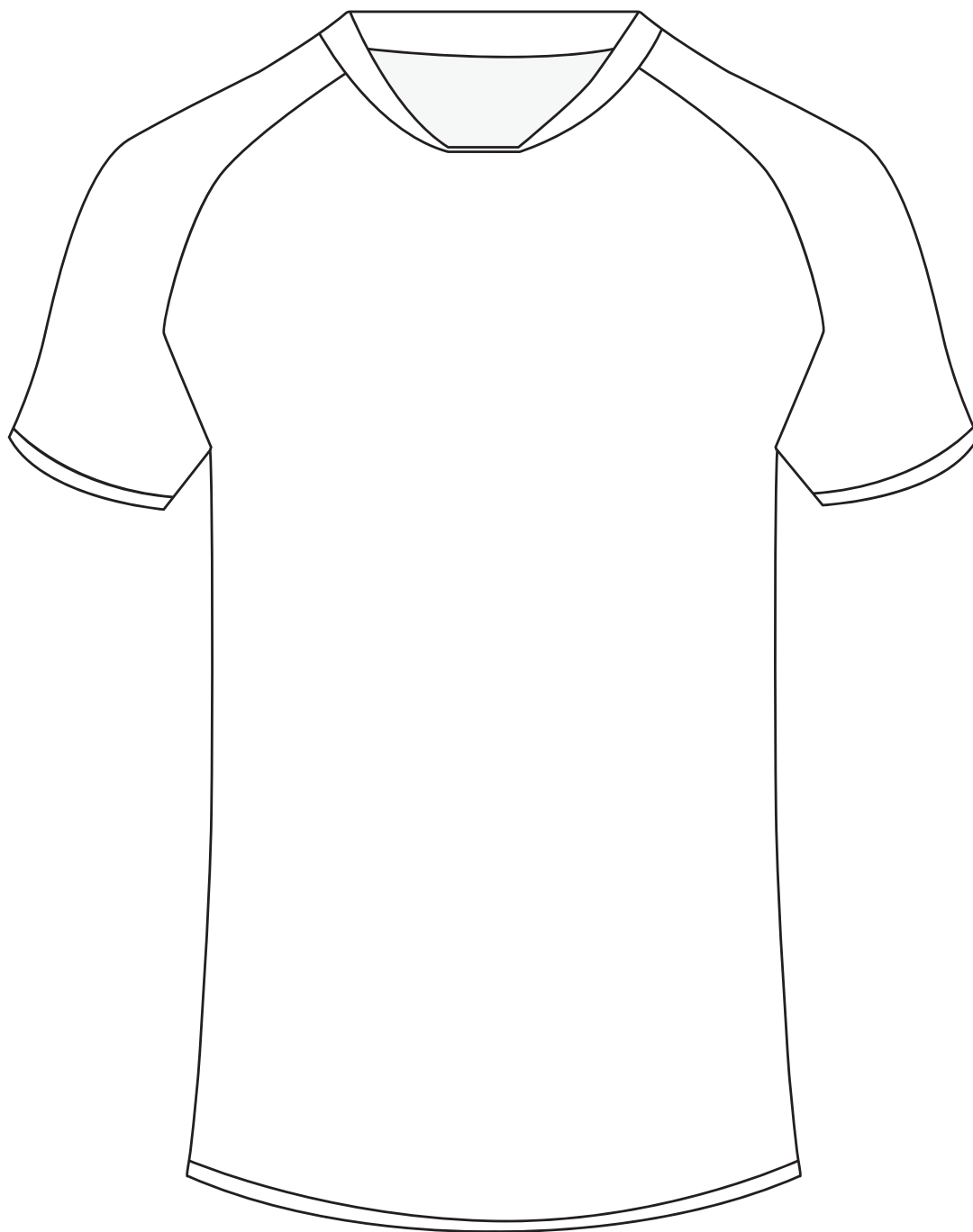
Jouons avec cœur, faisons-le savoir au monde entier!

SECTION 2

De la 3e à la 5e année du primaire :
Dessine ton maillot d'équipe

Instructions :

Dessine et colorie ton propre maillot de soccer.



De la 3^e à la 5^e année du primaire :

Activité de mathématiques sur le thème du soccer

Instructions : « Marque ce but! »

Résous les problèmes de mathématiques suivants pour aider ton équipe à marquer des buts! Chaque question à laquelle tu réponds correctement équivaut à 1 but.

1. Il y a 18 joueurs dans une équipe de soccer. Si 8 équipes participent à un tournoi, combien de joueurs participent au total?
2. Si un joueur marque 3 buts en 3 matchs, et un autre joueur marque 5 buts en 2 matchs, quel joueur a marqué le plus de buts au total?
3. Résous l'équation suivante : $\text{⚽} \times \text{⚽} \div \text{⚽} =$
4. Dans un match de la Coupe du monde de la FIFA 2026™, chaque équipe doit avoir 11 joueurs sur le terrain dans son alignement de départ, mais il y a 18 joueurs au total dans l'équipe. Combien de joueurs ne sont pas inclus dans l'alignement de départ?
5. Dans un tournoi, chaque fois qu'une équipe gagne un match, elle gagne 3 points, chaque fois qu'elle est égale, elle gagne 1 point, et chaque fois qu'elle perd, elle gagne 0 point. L'équipe d'Amit a gagné 3 matchs, a égalé 2 matchs et a perdu 1 match. Combien de points l'équipe d'Amit a-t-elle gagnés durant le tournoi?
6. L'équipe de soccer de Tyra doit passer une commande pour de nouveaux crampons pour tous ses joueurs. L'équipe compte 18 joueurs, mais 3 d'entre eux sont actuellement blessés. Combien de crampons de soccer ont-ils besoin au total?
7. Tu as passé le ballon à ta coéquipière Nadia 5 fois en 1 match et 6 fois en 2 matchs. Combien de fois au total as-tu passé le ballon à Nadia?
8. En tant que gardien de but, tu as bloqué 8 tirs dans un match et 15 tirs dans un autre match. Ton ami qui est également gardien de but a bloqué 18 tirs dans un match et 3 tirs dans un autre. Qui a bloqué le plus de tirs?

Combien de buts as-tu marqués?

Réponses :

1. 144 joueurs 2. Le deuxième joueur 3. 24 ballons de soccer 4. 7 joueurs 5. 11 points 6. 36 crampons 7. 11 passes 8. Toi (par 5 blocs)

SECTION 3

De la 6e année du primaire à la 1re année du secondaire : Activité de définition des objectifs

La Coupe du monde de la FIFA™ arrivera au Canada en juin 2026, et tant de choses peuvent arriver d'ici là!

Réfléchis à la façon dont tu peux grandir en tant qu'élève et en tant que personne avant le grand tournoi.

Instructions :

Note deux objectifs pour l'école et deux objectifs pour ta vie personnelle que tu souhaites atteindre dans la prochaine année. Ces objectifs peuvent être grands ou petits -, ce qui compte, c'est qu'ils sont importants pour toi.

Objectif pour l'école :

Objectif personnel :

De la 6e année du primaire à la 1re année du secondaire : Jeu-questionnaire sur la Coupe du monde de la FIFA™

Instructions :

Teste ton intelligence en matière de soccer! Lis chaque question et écris ta réponse sur la ligne blanche. Lorsque tu as terminé, vérifie tes réponses en bas.

1. Quel terme utilise-t-on quand un joueur marque trois buts en un seul match?

2. Dans quel espace désigné un gardien de but peut-il utiliser ses mains?

3. Quels sont les trois pays hôtes de la Coupe du monde de la FIFA 2026™?

4. Qui décide du temps supplémentaire après chaque mi-temps?

5. Quelle carte de couleur l'arbitre donne-t-il pour retirer immédiatement un joueur du jeu?

6. Qui a remporté la dernière Coupe du monde masculine de la FIFA™ en 2022?

7. Combien de pays participent à la Coupe du monde de la FIFA 2026™?

8. Quel terme utilise-t-on quand un joueur utilise sa tête pour toucher le ballon?

9. Quel est le travail principal d'un gardien de but?

10. Quel est le terme pour décrire « agir respectueusement sans règles fixes » sur le terrain et en dehors?

Réponses :

1. Tour du chapeau 2. À l'intérieur de la surface de réparation ou à l'intérieur de la surface de gardien de but 3. Canada, États-Unis, Mexique 4. Quatrième arbitre officiel 5. Rouge 6. Argentine 7. 48 pays 8. Coup de tête 9. Empêcher l'équipe adverse de marquer 10. Avoir un esprit sportif

SECTION 3

De la 6e année du primaire à la 1re année du secondaire : Coupe du Monde 2026 en mathématiques

Instructions:

Utilise tes compétences en mathématiques pour aider ton équipe à remporter la Coupe du monde de la FIFA 2026™! Chaque bonne réponse équivaut à un but. Marque autant de buts que tu peux pour assurer ta victoire!

1. Une ligue professionnelle de soccer compte 30 équipes, et chaque équipe possède une formation de 25 joueurs. Cependant, seulement 11 joueurs à la fois de chaque équipe sont sur le terrain. Calcule le nombre total de joueurs de la ligue, puis détermine quel pourcentage de ces joueurs sont actuellement « partants » sur le terrain.
2. Si un stade peut accueillir 45 000 personnes et qu'il est plein à 75 %, combien de personnes assistent au match?
3. Ton équipe a joué 5 matchs et marqué un total de 13 buts. Calcule le nombre moyen de buts par match. Si l'équipe marque 4 buts lors de son 6e match, comment la nouvelle moyenne se comparera-t-elle à la précédente? Montre ton travail.
4. Un stade a vendu 10 705 billets à 25 \$ chacun. Cependant, le stade doit payer 15 % de son revenu total de billets en personnel et en frais de sécurité. Calcule le bénéfice net des ventes de billets après déduction de ces dépenses.
5. Pendant un match, le joueur A a fait 40 passes avec un taux de précision de 85 %. Le joueur B a fait 50 passes et 42 d'entre elles ont atteint ses coéquipiers. Quel joueur avait un pourcentage de précision plus élevé? Justifie ta réponse en utilisant des calculs.
6. La boutique des partisans du stade a vendu 320 chapeaux pour un total de 6 400 \$ et 240 foulards pour un total de 3 600 \$. A) Quel est le prix unitaire d'un chapeau et d'une écharpe? B) Quelle est la différence entre le prix d'un chapeau par rapport au prix d'une écharpe dans sa forme la plus simple?
7. Un ballon de soccer coûte 18 \$. Si ton équipe achète 12 ballons de soccer et obtient une réduction de 25 % sur le total, combien paie-t-elle au total?
8. Une équipe parcourt 1 200 km, 800 km et 1 500 km pendant la phase de groupes. Si son avion se déplace à une vitesse constante de 700 km/h, calcule le temps de trajet total en heures et en minutes. Arrondis ta réponse à la minute près.

Combien de buts as-tu marqués?

Réponses :

1. 750 joueurs au total; 44 % sont partants 2. 33 750 personnes 3. Moyenne précédente : 2,6; Nouvelle moyenne : 2,85; la moyenne a augmenté de 4,227 481,25 \$ 5. Joueur A (85 % > 84 %) 6. A) Chapeau : 20 \$; Écharpe : 15 \$ B) 4; 3; 1,62 \$ 8. 5 heures et 0 minute

**De la 6e année du primaire à la 1re année du secondaire :
Jeu de mots mélangés sur le thème du soccer**

Instructions :

Déchiffre les mots sur le thème du soccer et écris le bon mot dans l'espace prévu à cet effet.

GRIENDA =

TÉPANILÉ =

PECOQUIÉIR =

ORNTOOT =

CAELT ÉSISLG =

UNOTRIO =

PSRACMON =

RNRAITE =

RTÉPHOE =

Réponses :

GARDIEN/PÉNALTÉ/COÉQUIPIER/TORONTO/TACLE GLISSÉ/TOURNOI/GRAMPONS/TERRAIN/TROPHÉE

SECTION 3

De la 6e année du primaire à la 1re année du secondaire : Code d'émojis du soccer

Instructions :

Peux-tu déchiffrer le code d'émojis du soccer? Chaque phrase ci-dessous est écrite en émojis. Essaie de comprendre ce qu'elle dit, puis crée ton propre message en utilisant des émojis!

1   _____

2    _____

3    _____

4    _____

Maintenant, essaie! Écris ta propre phrase à l'aide d'émojis de soccer ici :

Réponses :

1 Coup de pied de soccer 2 Le Canada adore le soccer 3 Le gardien de but bloque 4 Trophée de la Coupe du monde

De la 6e année du primaire à la 1re année du secondaire : Dessine ta mascotte

Instructions :

La Coupe du monde de la FIFA 2026™ a besoin d'une nouvelle mascotte, et c'est toi qui en es le concepteur! Crée un personnage amusant et amical qui encouragera les partisans du monde entier. Réponds ensuite aux questions ci-dessous.

Dessine ta mascotte ici :

Foire aux questions

- 1. Nom :**
Exemple : Soccy, le castor
- 2. Pays qu'il représente :**
Exemple : Canada
- 3. Qu'est-ce que ta mascotte aime le plus dans le soccer?**
Exemple : Acclamer les adeptes et faire des saltos arrière après les buts!
- 4. 3 Faits amusants :**
Exemple : 1) Possède un sifflet chanceux 2) Ne rate jamais un match 3) Aime le sirop d'érable après le match

SECTION 4

Salut les enseignants! Défiiez vos élèves de créer une affiche pour la Coupe du monde de la FIFA 2026™!

Aperçu :

Encouragez la créativité en créant une affiche pour la Coupe du monde de la FIFA 2026™! Le thème est « Le monde dans une ville ».

Étapes à suivre pour le déroulement :

1. Annoncez le défi de l’affiche et affichez des exemples (réels ou numériques).
2. Fixez une date limite de soumission (suggérez de 2 à 3 semaines).
3. Encouragez l’utilisation de thèmes culturels, de drapeaux ou de symboles de soccer.
4. Sélectionnez des juges (vote du personnel ou des pairs).
5. Exposez les affiches dans les couloirs ou créez une galerie d’exposition.
6. Célébrez les gagnants avec des certificats, des prix ou des annonces!

Facultatif : Soumettez les affiches les plus populaires à un courriel/présentoir central pour une reconnaissance par le district scolaire.

SECTION 5

Guide pour un tournoi de soccer/parcours d'obstacles

Équipement requis :

- Cônes ou craies
- Ballons de soccer
- Échelle de plancher (facultative)

Option A : Mini tournoi de soccer

Détails de l'activité :

1. Divisez la classe en petites équipes (5 à 7 joueurs par équipe)
2. À l'extérieur ou dans un gymnase, utilisez des cônes ou de la craie pour fabriquer/dessiner des filets
3. Jouez de courtes parties de 5 à 10 minutes
4. Notez le pointage et progressez vers les demi-finales/finales

Facultatif : Utilisez les noms de pays pour chaque équipe afin de reprendre le thème de la Coupe du monde de la FIFA™.

Option B : Parcours d'obstacles : « Entraîne-toi comme un pro! »

Détails de l'activité :

1. Zone de dribble : Courir à travers les cônes avec un ballon.
2. Station de tirs : Donner un coup de pied à un ballon dans un filet ou sur une cible.
3. Échelle d'agilité : Jeu de pieds rapides à travers des boîtes dessinées ou une véritable échelle.
4. Saut du gardien de but : Sauter d'un côté et de l'autre comme un gardien de but!
5. Relais d'équipe : Passer le ballon en utilisant les pieds seulement le long d'une ligne.

Conclusion :

- Terminez par un étirement de récupération.
- Donnez à chaque élève un certificat « Future étoile du soccer ».



SECTION 6

Feuille à colorier :

**Affiche de la Coupe du Monde de la FIFA 26™
pour la ville hôte de Toronto**

Coupe du Monde de la FIFA 26th
11 juin - 19 juillet

